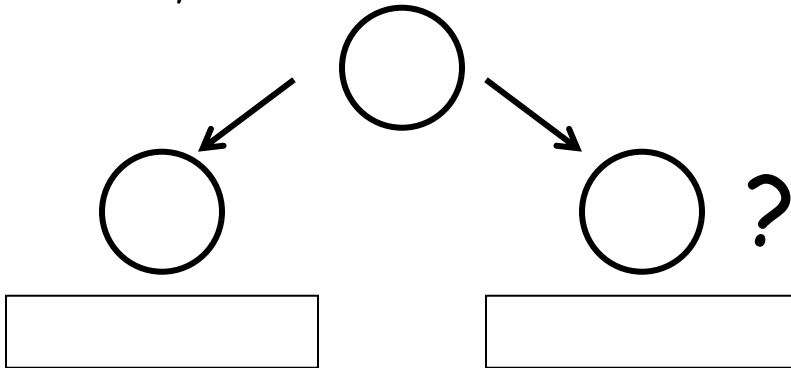


Prénom : _____

Date : _____

Résolution de problèmes

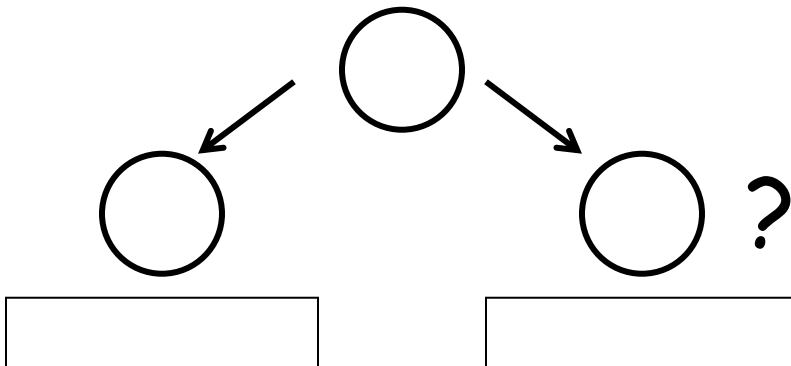
1. Jacob a un sac contenant 11 billes. Il a 5 billes oranges et des billes roses.
Combien y a-t-il de billes roses?



Formule mathématique



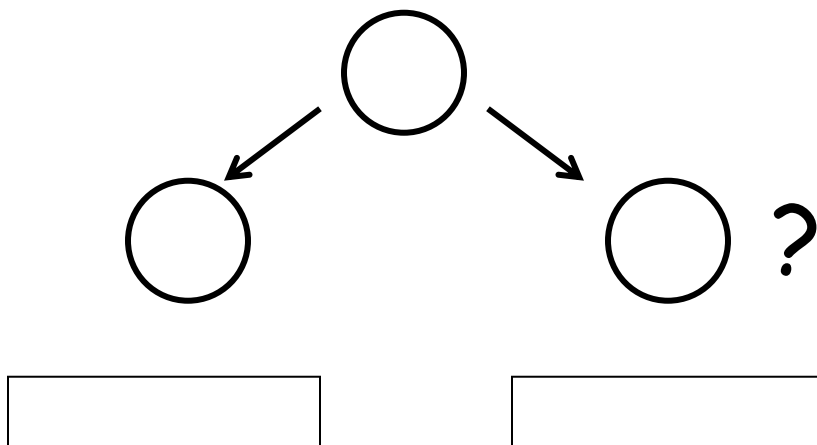
2. Dans mon sac d'épicerie, il y a 14 fruits. J'ai 5 pommes et des bananes.
Combien y a-t-il de bananes?



Formule mathématique



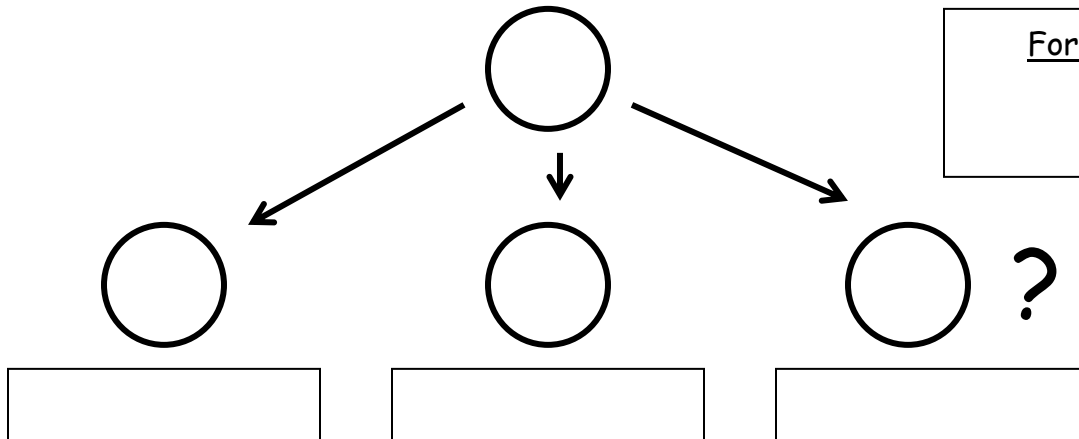
3. Juliette a 12 animaux à la ferme. Elle a 9 moutons et des poules.
Combien a-t-elle de poules?



Formule mathématique



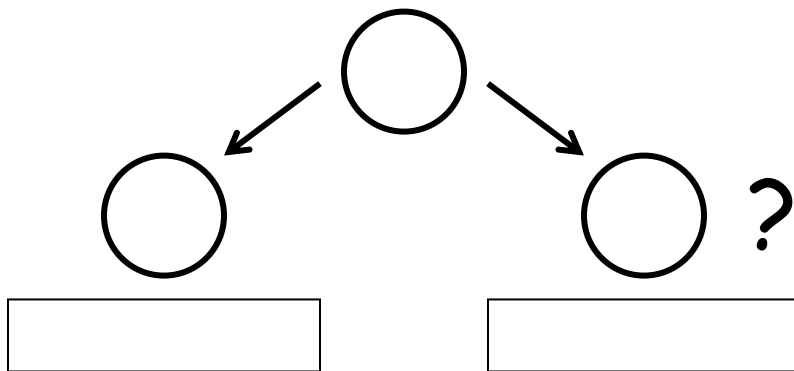
4. Il y a 8 jouets dans ma chambre. Il y a 2 jouets bruns, 3 jouets bleus et des jouets rouges. Combien y a-t-il de jouets rouges?



Formule mathématique



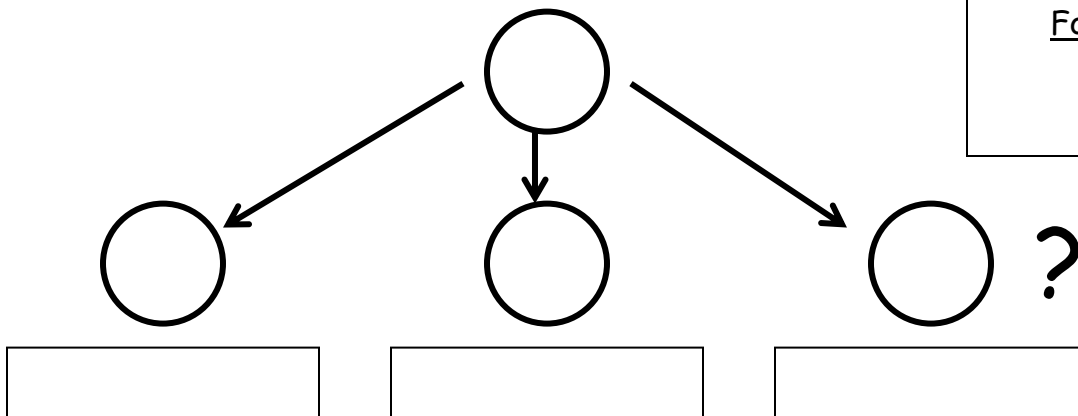
5. Charles fait 15 petits gâteaux. Il y a 6 gâteaux à la vanille et des gâteaux au chocolat. Combien y a-t-il de gâteaux au chocolat?



Formule mathématique



6. Dans ma chambre, j'ai 16 toutous. Il y a 8 toutous en forme d'ours, 3 toutous en forme d'éléphant et des toutous en forme de chat. Combien y a-t-il de toutous en forme de chat?



Formule mathématique

